

CLASS (कक्षा) : VIII
SOCIAL SCIENCE

(सामाजिक विज्ञान)
(Summative Assessment - I)
(संकलनात्मक मूल्यांकन - I)

Please check that this question paper contains 31 questions and 10 printed pages.

कृपया जाँच कर लें कि इस प्रश्न-पत्र में 31 प्रश्न तथा 10 छपे हुए पृष्ठ हैं।

Time Allowed : 3 Hours

Maximum Marks : 90

निर्धारित समय : 3 घंटे

अधिकतम अंक : 90

General Instructions :

1. There are 31 questions in all.
2. Marks for each question are indicated against it.
3. All questions are compulsory.
4. Write the same question number as given in the question paper while answering a question in your answer book.
5. (i) Answer to MCQs of 1 mark each should be out of (a), (b), (c) or (d) only.
(ii) Answer to each question of 3 marks should not exceed 60 words.
(iii) Answer to each question of 5 marks should not exceed 100 words.
6. Both the Maps should be attached inside the answer book.

सामान्य निर्देश :

1. इस प्रश्न पत्र के कुल 31 प्रश्न हैं।
2. प्रत्येक प्रश्न के अंक उसके सामने दिये गये हैं।
3. सभी प्रश्न अनिवार्य हैं।
4. अपनी उत्तर पुस्तिका में उत्तर लिखते समय प्रश्न-पत्र में दिया गया प्रश्नांक ही लिखें।
5. (i) 1 अंक के बहु-वैकल्पिक प्रश्नों का उत्तर (a), (b), (c) अथवा (d) में से ही होना चाहिए।
(ii) 3 अंकों के प्रत्येक प्रश्न का उत्तर 60 शब्दों से अधिक नहीं होना चाहिए।
(iii) 5 अंकों के प्रत्येक प्रश्न का उत्तर 100 शब्दों से अधिक नहीं होना चाहिए।
6. दोनों मानचित्रों को अपनी उत्तर पुस्तिका के भीतर संलग्न कीजिए।

1. Choose the country amongst the following which has got the highest percentage of cultivated land. 1

(a) Japan

(b) U.K.

(c) India ✓

(d) Australia

निम्नलिखित देशों में उस देश को चुनिए जहाँ कृषि योग्य भूमि का प्रतिशत सबसे अधिक है।

(a) जापान

(b) इंग्लैण्ड

(c) भारत

(d) आस्ट्रेलिया

2. Hoover valley project is located in which one of the following countries?

- (a) Egypt (b) India
(c) China (d) USA

‘हूवर घाटी परियोजना’ निम्नलिखित में किस देश में स्थित है?

- (a) मिस्त्र (b) भारत
(c) चीन (d) अमेरिका

3. Which 'Wildlife conservation project' was launched in 1973?

- (a) Project Rhino (b) Project Tiger
(c) Project Elephant (d) Project Nilgai

1973 में कौन सा ‘वन्य जीव संरक्षण प्रोजेक्ट’ शुरू किया गया था?

- (a) प्रोजेक्ट राइनो (b) प्रोजेक्ट टाइगर
(c) प्रोजेक्ट हाथी (d) प्रोजेक्ट नील गाय

4. Which one of the following forests is common in Zaire and Amazon Basin?

- (a) Evergreen Forest (b) Tropical Deciduous
(c) Medeterean Forest (d) Coniferous Forest

निम्नलिखित वनों में से कौन से वन जैरे (Zaire) और अमेजन घाटी (Amajon Basin) में पाए जाते हैं?

- (a) सदा हरित वन (b) उष्ण पर्णपाती वन
(c) भू-मध्य सागरीय वन (d) कंटीले वन

5. In which language was Bal Gangadhar Tilak's newspaper 'Kesari' published?

- (a) Hindi (b) English
(c) Urdu (d) Marathi

बाल गंगाधर तिलक का समाचार पत्र ‘केसरी’ किस भाषा में छपता था?

- (a) हिन्दी (b) अंग्रेजी
(c) उर्दु (d) मराठी

6. In which one of the following cities is the Gateway of India located?

- (a) Kolkatta (b) Ahmedabad
(c) Mumbai (d) Delhi

‘गेट वे आफ इंडिया’ निम्नलिखित नगरों में से किस नगर में स्थित है?

- (a) कोलकत्ता (b) अहमदाबाद
(c) मुम्बई (d) दिल्ली

Identify the important event which took place in Indian History in 1885.

1

- (a) Establishment of East India Company
- (b) Establishment of Indian National Congress
- (c) Establishment of Muslim League
- (d) Establishment of Home Rule League

1885 में भारत के इतिहास में घटी मुख्य घटना की पहचान कीजिए।

- (a) ईस्ट इन्डिया कम्पनी की स्थापना
- (b) भारतीय राष्ट्रीय कांग्रेस की स्थापना
- (c) मुस्लिम लीग की स्थापना
- (d) होम रूल लीग की स्थापना

The constitution of which country inspired India to adopt the concept of Directive Principles of State Policy?

1

- (a) Ireland
- (b) Britain
- (c) USA
- (d) Canada

किस देश के संविधान ने भारत को 'राज्य के नीति निर्देशक सिद्धान्त' अपनाने के लिए प्रेरित किया?

- (a) आयरलैण्ड
- (b) ब्रिटेन
- (c) संयुक्त राज्य अमेरिका
- (d) कनाडा

Choose one subject amongst the following is included in the state list :

1

- (a) IT & Software
- (b) Post & telegraph
- (c) War & Peace
- (d) Public health & sanitation

निम्नलिखित विषयों में से किस एक विषय को राज्य सूची में सम्मिलित किया गया है?

- (a) सूचना प्रौद्योगिकी और साफ्टवेयर
- (b) डाक और तार
- (c) युद्ध और शान्ति
- (d) जन स्वास्थ्य और स्वच्छता

Parliament can remove the President of India by a procedure called :

1

- (a) NO Confidence Motion
- (b) Amendment
- (c) Impeachment
- (d) Adjournment

संसद द्वारा भारत के राष्ट्रपति को पद से हटाने की प्रक्रिया को निम्नलिखित में से क्या कहते हैं?

- (a) अविश्वास प्रस्ताव
- (b) संशोधन
- (c) महाभियोग
- (d) सत्रावसान

11. Explain any three measures that can be adopted to conserve energy resources. 3x1=
- ऊर्जा संसाधनों के संरक्षण हेतु अपनाए जा सकने वाले किन्हीं तीन उपायों की व्याख्या कीजिए।
12. Highlight any three factors that affect the soil formation. 3x1=
- मृदा निर्माण को प्रभावित करने वाले किन्हीं तीन कारकों को उजागर कीजिए।
13. Suggest any three measures to be taken by the government to protect the forests. 3x1=
- वनों की रक्षा के लिए सरकार द्वारा अपनाए जाने योग्य कोई तीन उपाय सुझाईये।
14. Name any two regions in the world where the monsoon forests are commonly found. Write any two differences between the Monsoon forests and the Evergreen forests. 1+2=
- विश्व के ऐसे दो क्षेत्रों के नाम लिखिए जहां मानसून वन पाए जाते हैं। मानसून वनों तथा सदा हरित वनों में कोई दो अन्तर लिखिए।
15. 'The French dream of establishing an empire in India ended with the Third Carnatic war'. Explain any two causes of it.
- “तृतीय कारनाटिक युद्ध के साथ ही फ्रांसीसियों का भारत में साम्राज्य स्थापित करने का सपना टूट गया।” इसके किन्हीं दो कारणों की व्याख्या कीजिए।
16. How did the Britishers systematically destroy Indian crafts & industries? Explain.
- अंग्रेजों ने किस प्रकार भारतीय शिल्प और उद्योगों को विधिवत नष्ट किया? स्पष्ट कीजिए।
17. "The Revolt of 1857 was unprecedented" Justify the statement.
- “1857 का विद्रोह अभूतपूर्व था” कथन को सही सिद्ध कीजिए।
18. Why is the Preamble of the constitution of India regarded as the soul of the constitution? Explain.
- भारत के संविधान की प्रस्तावना को संविधान की आत्मा क्यों कहा जाता है? स्पष्ट कीजिए।
19. Explain any three features of a parliamentary form of Government. 3x1=
- संसदीय सरकार की कोई तीन विशेषताएं स्पष्ट कीजिए।

Which subjects are called the residuary subjects? Who is responsible for making laws on these subjects? ~~center~~ Parliament and Central law
किन विषयों को अवशिष्ट विषय कहा जाता है? इन विषयों पर कानून बनाने के लिए कौन जिम्मेदार है?
2+1=3
to

1. State any three differences between Lok Sabha and Rajya Sabha. 3×1=3
लोक सभा और राज्य सभा के बीच तीन अन्तर लिखिए।
2. Why is USA termed as a developed country? Examine the role of Human Resource in the development of a country. 1+4=5
संयुक्त राज्य अमेरिका को विकसित देश क्यों कहा जाता है? किसी देश के विकास में मानव संसाधन की भूमिका का परीक्षण कीजिए।
3. Define Land use pattern? Why does the land use pattern vary from country to country? According to the land use pattern what percentage of land should be under the forest cover and why? 1+2+2=5
भूमि उपयोग प्रतिरूप को परिभाषित कीजिए। यह अलग-अलग देश में अलग-अलग क्यों होता है? भूमि उपयोग प्रतिरूप के अनुसार भूमि का कितना प्रतिशत भाग वनों से ढका होना चाहिए और क्यों ढका होना चाहिए?

OR

What is 'Soil Erosion'? State two causes of Soil Erosion. Explain the role of change in agricultural methods to check Soil Erosion.

मृदा अपरदन क्या है? मृदा अपरदन के कोई दो कारण लिखिए। मृदा अपरदन को रोकने के लिए कृषि तरीकों में परिवर्तन की भूमिका स्पष्ट कीजिए।

24. "Dual Government of Bengal gave immense power to the British, but brought misery to the people of Bengal". Analyse the statement. 5
"बंगाल की द्वैध सरकार ने अंग्रेजों को अत्यधिक शक्ति प्रदान की परन्तु बंगाल के लोगों के लिए मुसीबतें पैदा की" इस कथन का विश्लेषण कीजिए।
25. Who were the 'Tribals'? Name the tribal groups of Punjab and Chottanagpur. 2+1+2=5
Explain the impact of the British policies on the lives of the tribals.
जनजातीय लोग कौन थे? पंजाब और छोटा नागपुर के जनजातीय समूहों के नाम लिखिए।
अंग्रेजों की नीतियों के जनजातीय समूहों के जीवन पर हुए प्रभाव की व्याख्या कीजिए।

26. The Revolt of 1857 was the outcome of wide spread resentment. Examine the military and immediate causes of the Revolt.

1857 का विद्रोह व्यापक असन्तोष का परिणाम था। इस विद्रोह के सैनिक एवं तत्कालिक कारणों की समीक्षा कीजिए।

OR (अथवा)

Why was the Revolt of 1857 not successful? Highlight any five reasons.

1857 का विद्रोह क्यों सफल नहीं हुआ? कोई पांच कारण उजागर कीजिए।

27. Explain any five salient features of the Indian Constitution.

भारतीय संविधान की किन्हीं पांच महत्वपूर्ण विशेषताओं की व्याख्या कीजिए।

28. Analyze the working of secularism in India with suitable examples.

भारत में धर्मनिरपेक्षता की कार्यप्रणाली का उपयुक्त उदाहरणों के साथ विश्लेषण कीजिए।

29. Explain any five powers of the Indian Parliament.

भारतीय संसद की किन्हीं पांच शक्तियों को स्पष्ट कीजिए।

OR (अथवा)

Explain any five powers and functions of the Vice-President of India.

भारत के उप-राष्ट्रपति की किन्हीं पांच शक्तियों अथवा कार्यों को स्पष्ट कीजिए।

30. (i) Two features A and B are shown in the given political map of India. Identify these features with the help of the information given below and write their names on the lines marked on the map

(A) The place where the sepoys revolted on 10th May 1857.

(B) The place from where Tantya Tope led the Revolt of 1857.

- (ii) On the same political map of India locate and label the following place :

(C) Odisha : The present state of India to which Khonds belonged.

- (i) भारत के दिए गए रेखा मानचित्र पर दो लक्षण A तथा B दर्शाए गए हैं। नीचे दी गई जानकारी के आधार पर इन लक्षणों को पहचानिए तथा उनके सही नाम मानचित्र में खींची गई रेखाओं पर लिखिए।

(A) वह स्थान जहां 10 मई 1857 को सिपाहियों ने विद्रोह किया था।

(B) वह स्थान जहां से तांत्या टोपे ने विद्रोह का नेतृत्व किया था।

- (ii) दिए गए उसी मानचित्र पर निम्नलिखित को दर्शाइए और उसका नाम भी लिखिए।
(C) ओडिशा - भारत का वर्तमान राज्य जिससे खोंड सम्बन्ध रखते थे।

For visually impaired students only in lieu of Q. No. 30

प्र.सं. 30 के स्थान पर केवल दृष्टि बाधित विद्यार्थियों के लिए वैकल्पिक प्रश्न

30.1. Who was the leader of the sepoy mutiny in Kanpur.

30.2. Name the Mughal Emperor in Delhi at the time of the Revolt of 1857.

30.3 Name the tribal group of Kulu.

1×3=3

30.1 कानपुर में सैनिक विद्रोह का नेता कौन था?

30.2 1857 के विद्रोह के समय दिल्ली में मुगल सम्राट का नाम लिखिए।

30.3 कुल्लू के जनजातीय समूह का नाम लिखिए।

31. (i) Two features (A) and (B) are marked on the given political map of the world Identify these features with the help of following information and write their correct names on the lines marked on the map :

(A) A region of low rainfall in Africa

(B) A type of forests

- (ii) On the same outline map of the world locate and label the items with appropriate symbols.

(C) One region with high rainfall in North America

(D) One region of Mediterranean forests in Australia.

1×4=4

- (i) संसार के प्राकृतिक रेखा मानचित्र पर दो लक्षण और चिन्हित किए गए हैं। नीचे दी गई जानकारी के आधार पर मानचित्र में खींची रेखाओं पर उनके सही नाम लिखिए।

(A) अफ्रीका में कम वर्षा वाला क्षेत्र

(B) वनों का एक प्रकार

- (ii) दिए गए संसार के उसी प्राकृतिक मानचित्र पर निम्नलिखित को उपयुक्त चिहनों द्वारा दर्शाईए और उनके नाम भी लिखिए।

(C) उत्तर अमरीका में अधिक वर्षा वाला एक क्षेत्र

(D) आस्ट्रेलिया में भूमध्य सागरीय वनों का एक क्षेत्र

For visually impaired students only in lieu of Q. No. 31

प्र.सं. 31 के स्थान पर केवल दृष्टि बाधित विद्यार्थियों के लिए वैकल्पिक प्रश्न

31.1. Which region of Australia gets low rainfall?

31.2. Name one region of Tropical Evergreen Forest in South America.

31.3. Which animal is commonly found in the temperate softwood forest?

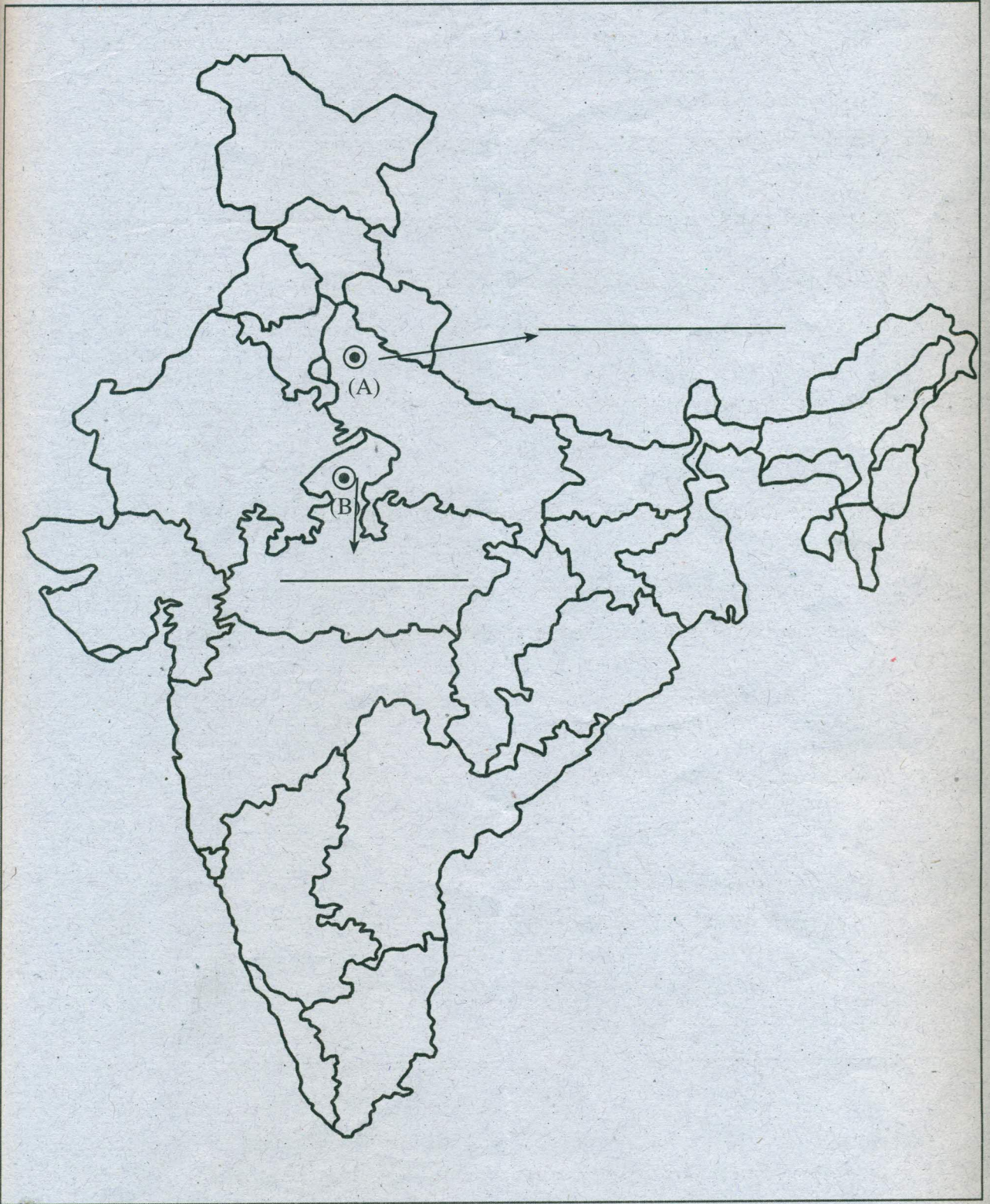
31.4. Name any one region of high rainfall in Africa.

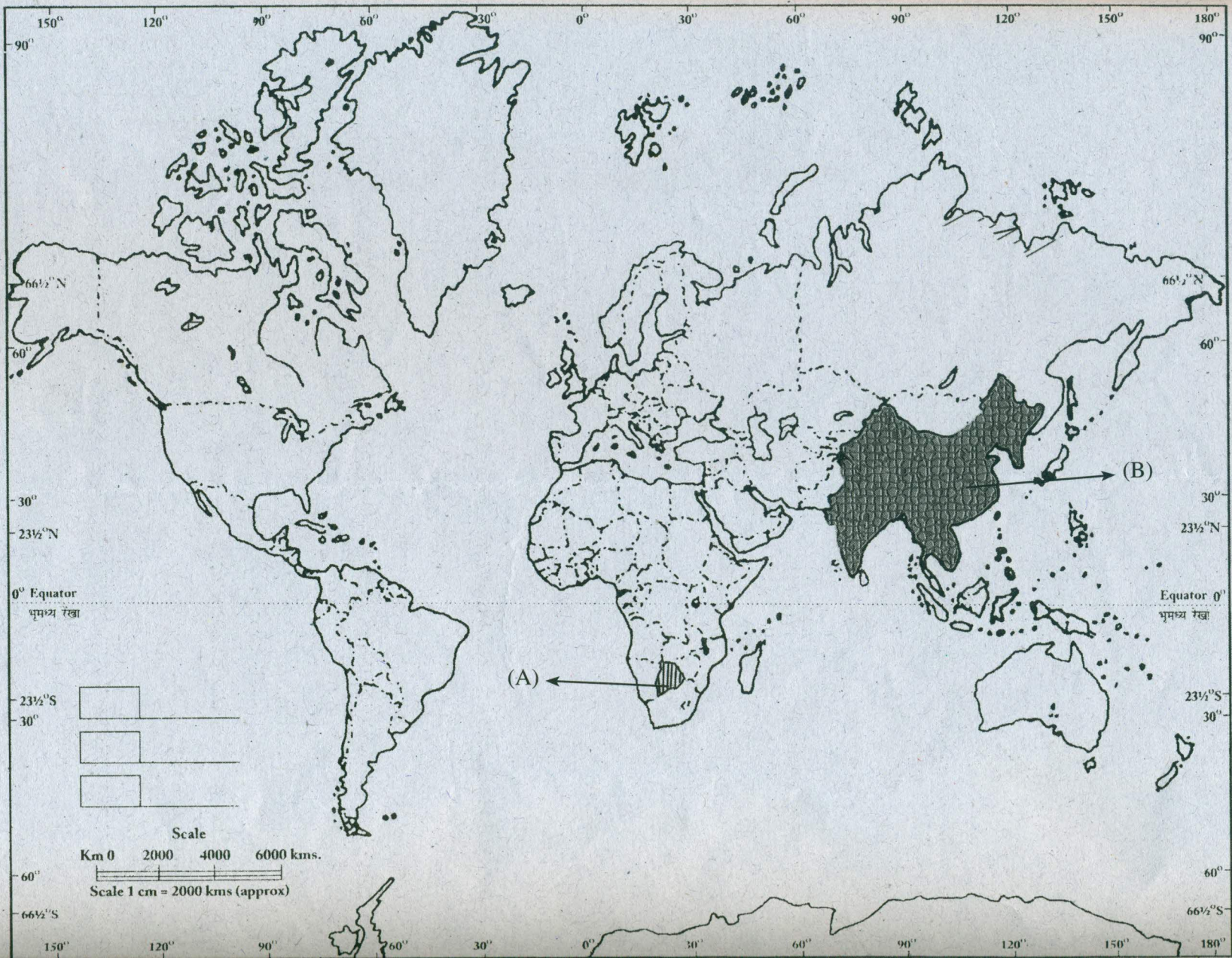
31.1. आस्ट्रेलिया के कौन से क्षेत्र में कम वर्षा होती है?

31.2. दक्षिण अमरीका में सदा हरित वनों के एक क्षेत्र का नाम लिखिए।

31.3. शीतोष्ण कटिबंधीय वन में कौन सा पशु सामान्यतः पाया जाता है?

31.4. अफ्रीका में अधिक वर्षा प्राप्त करने वाले किसी एक क्षेत्र का नाम लिखिए।





Roll No. (अङ्कमात्र) _____
Map for Question No. 31 (प्र.सं. 31 के लिए मानचित्र)

World-Political (संसार-राजनीतिक)


Dear Teacher,

Please refer to the following note :

- ⇒ **Question No. 7** was out of syllabus hence it's 1 mark is allotted to question number 10 and therefore question 10 is of 2 marks.
- ⇒ **Q. No. 11** was changed at the time of examination and the correction was modified as 'Explain any three measures that can be adopted to conserve natural resources.

It may be noted that if a child has attempted the question as given in the question paper then also the mark should be allotted if the answer is correct.

- ⇒ Internal choice of **question no. 29** was moderated and correction uploaded during the examination at the DAVCMC website. However, if the child has attempted the question given in the question paper reasonable marks should be allotted to the child based on the answer provided. This is done, as it is possible that the correction uploaded at the DAVCMC website may not be communicated at the time of examination to the students concerned.

A handwritten signature in black ink is located on the right side of the page. Above the signature, there is a large checkmark symbol.